


**Szkoła Podstawowa nr 5 w Mińsku Mazowieckim**

**I Szkolny Konkurs o Mazowszu – kategoria IV-V klasy – 16 stycznia 2019 r.**

Na mapie zaznacz literą M położenie Niziny Mazowieckiej (0-1)



Które ze zdjęć przedstawia krajobraz Mazowsza?(0-1)




a



b



c



d.

W której części Polski leży Nizina Mazowiecka? (0-1)

- A) Północnej
- B) Południowej
- C) Wschodniej
- D) Zachodniej

Mazurek to nazwa:(0-1)

- A) tradycyjnego ciasta wielkanocnego na cienkim kruchym spodzie, przykrytego masą i odświętnie zdobionego
- B) wiejska taneczna forma muzyczna często utożsamiana z oberkiem
- C) gatunek małego ptaka podobnego do wróbla
- D) wszystkie wymienione

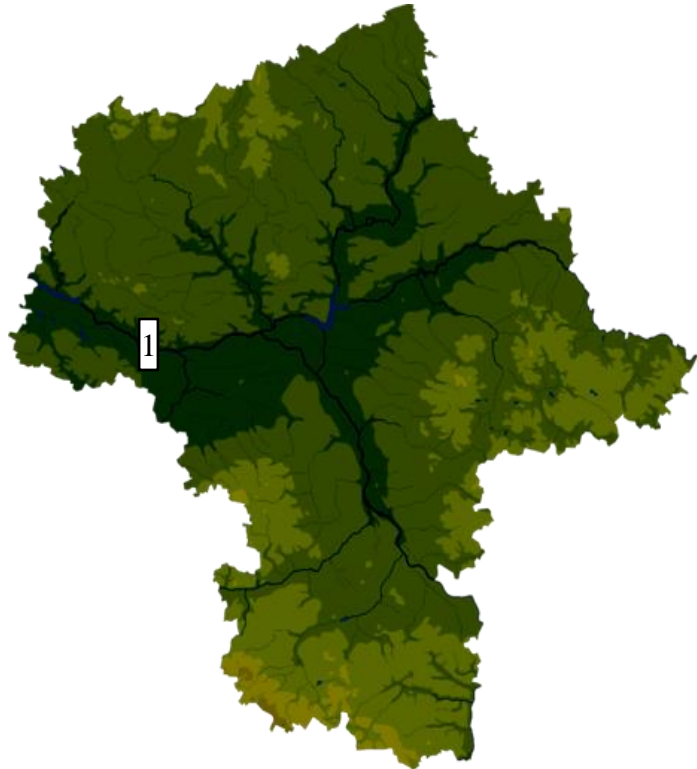
Narew, Bug i Bzura to przykłady:(0-1)

- a. Punktów widokowych
- b. rzek
- c. kopalni piasku
- d. jezior

**Szkoła Podstawowa nr 5 w Mińsku Mazowieckim**  
**I Szkolny Konkurs o Mazowszu – kategoria IV-V klasy – 16 stycznia 2019 r.**

Na mapie województwa mazowieckiego zaznaczono:(0-1)

- a. Odrę
- b. Dunajec
- c. Wartę
- d. Wisłę



Głównym „rzeźbiarzem” Mazowsza był/było:(0-1)

- a. woda
- b. wiatr
- c. lodowiec
- d. wietrzenie fizyczne

Mazowsze przoduje w uprawie:(0-1)

- a. ziemniaka
- b. tytoniu
- c. chmielu
- d. rzepaku

Logo Kampinoskiego Parku Narodowego to:(0-1)



a



b



c



d

Zapisz właściwe nazwy na podstawie opisów:(0-3)

- a. Miejscowość, w której znajduje się dworek – muzeum Fryderyka Chopina.....
- b. Przykład zabytkowej architektury obronnej, położony przy lotnisku.....
- c. Miejscowość w której znajduje się skansen z 80 obiektami architektury drewnianej Mazowsza .....

W której miejscowości na Mazowszu znajdują się baseny termalne?(0-1)

**Szkoła Podstawowa nr 5 w Mińsku Mazowieckim**  
**I Szkolny Konkurs o Mazowszu – kategoria IV-V klasy – 16 stycznia 2019 r.**

Mińsk Mazowiecki

b. Mszczonów

c. Uniejów

d. Marianka

Jaka miejscowość rozpoznasz na zdjęciu? (0-1)



Uzdrowskiem znajdującym się na terenie województwa mazowieckiego jest miasto:(0-1)

- a. Nałęczów
- b. Konstancin Jeziorna
- c. Otwock
- d. Ciechocinek

Do grup etnograficznych mieszkających na Mazowszu należą:(0-1)



A



B



C



D

Kurpie to grupa etnograficzna charakteryzująca się wyrobem:(0-1)

- a. oscypka
- b. tabaki
- c. palmy wielkanocne
- d. szopki bożonarodzeniowej

Typowa warszawska zupa to: (0-1)

- a. kwaśnica
- b. flaki
- c. wodzionka
- d. pomidorowa