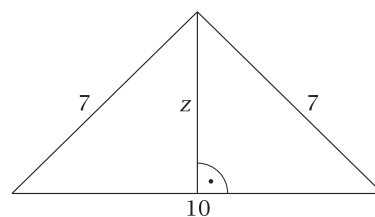
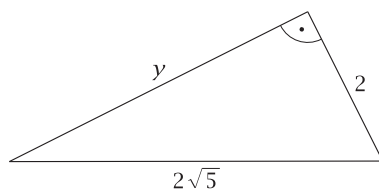
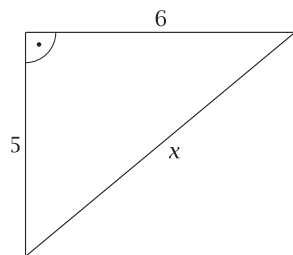


8. Oblicz długości odcinków x , y , z .



9. W sklepie przy ulicy Ciasnej telefon komórkowy kosztuje 170 zł brutto. Ten sam model telefonu w sklepie przy ulicy Szerokiej kosztuje 140 zł netto, a sklep dolicza jeszcze podatek VAT wysokości 23% ceny netto. W którym sklepie zapłacisz mniej za ten model telefonu?

10. Przekątne ścian bocznych narysowanego obok graniastosłupa prostego trójkątnego tworzą kąt 60° . Oblicz jego objętość.

