

WYPEŁNIA UCZEŃ

KOD UCZNIKA

--	--	--

PESEL

--	--	--	--	--	--	--	--	--	--	--	--

*miejsce
na naklejkę*



Egzamin ósmoklasisty Matematyka

DATA: **19 grudnia 2018 r.**

GODZINA ROZPOCZĘCIA: **9:00**

CZAS PRACY: **100 minut**

Instrukcja dla ucznia

1. Sprawdź, czy na kolejno ponumerowanych **22 stronach** jest wydrukowanych **21 zadań**.
2. Sprawdź, czy do arkusza jest dołączona karta odpowiedzi.
3. Ewentualny brak stron lub inne usterki zgłoś nauczycielowi.
4. Na tej stronie i na karcie odpowiedzi wpisz swój kod, numer PESEL i przyklej naklejkę z kodem.
5. Czytaj uważnie wszystkie teksty i zadania. Wykonuj zadania zgodnie z poleceniami.
6. Rozwiązania zadań zapisuj długopisem lub piórem z czarnym tuszem/atramentem.
7. Nie używaj korektora.
8. Rozwiązania zadań **zamkniętych**, tj. **1–15**, zaznacz na karcie odpowiedzi zgodnie z instrukcją zamieszczoną na następnej stronie. W każdym zadaniu poprawna jest zawsze **tylko jedna** odpowiedź.
9. Rozwiązania zadań **otwartych**, tj. **16–21**, zapisz czytelnie i starannie w wyznaczonych miejscach w arkuszu egzaminacyjnym. Ewentualne poprawki w odpowiedziach zapisz zgodnie z instrukcjami zamieszczonymi na następnej stronie.
10. Zapisy w brudnopisie nie będą sprawdzane i oceniane.

Powodzenia!

WYPEŁNIA ZESPÓŁ NADZORUJĄCY

Uprawnienia
ucznia do:

dostosowania
zasad oceniania.

nieprzenoszenia
odpowiedzi na kartę.



OMAP-**100**-1812

Zapoznaj się z poniższymi informacjami

1. Jak na karcie odpowiedzi zaznaczyć poprawną odpowiedź oraz pomyłkę w zadaniach zamkniętych?

Staraj się nie popełniać błędów przy zaznaczaniu odpowiedzi, ale jeśli się pomylisz, błędne zaznaczenie otocz kółkiem i zaznacz inną odpowiedź, np.



Poprawna odpowiedź w zadaniu	Układ możliwych odpowiedzi na karcie odpowiedzi	Sposób zaznaczenia poprawnej odpowiedzi	Sposób zaznaczenia pomyłki i poprawnej odpowiedzi																		
C	<table border="1"><tr><td>A</td><td>B</td><td>C</td><td>D</td></tr></table>	A	B	C	D	<table border="1"><tr><td>A</td><td>B</td><td>■</td><td>D</td></tr></table>	A	B	■	D	<table border="1"><tr><td>⊙</td><td>B</td><td>■</td><td>D</td></tr></table>	⊙	B	■	D						
A	B	C	D																		
A	B	■	D																		
⊙	B	■	D																		
AD	<table border="1"><tr><td>AC</td><td>AD</td><td>BC</td><td>BD</td></tr></table>	AC	AD	BC	BD	<table border="1"><tr><td>AC</td><td>■</td><td>BC</td><td>BD</td></tr></table>	AC	■	BC	BD	<table border="1"><tr><td>AC</td><td>■</td><td>BC</td><td>⊙</td></tr></table>	AC	■	BC	⊙						
AC	AD	BC	BD																		
AC	■	BC	BD																		
AC	■	BC	⊙																		
FP	<table border="1"><tr><td>PP</td><td>PF</td><td>FP</td><td>FF</td></tr></table>	PP	PF	FP	FF	<table border="1"><tr><td>PP</td><td>PF</td><td>■</td><td>FF</td></tr></table>	PP	PF	■	FF	<table border="1"><tr><td>PP</td><td>⊙</td><td>■</td><td>FF</td></tr></table>	PP	⊙	■	FF						
PP	PF	FP	FF																		
PP	PF	■	FF																		
PP	⊙	■	FF																		
A3	<table border="1"><tr><td>A1</td><td>A2</td><td>A3</td><td>B1</td><td>B2</td><td>B3</td></tr></table>	A1	A2	A3	B1	B2	B3	<table border="1"><tr><td>A1</td><td>A2</td><td>■</td><td>B1</td><td>B2</td><td>B3</td></tr></table>	A1	A2	■	B1	B2	B3	<table border="1"><tr><td>A1</td><td>A2</td><td>■</td><td>B1</td><td>⊙</td><td>B3</td></tr></table>	A1	A2	■	B1	⊙	B3
A1	A2	A3	B1	B2	B3																
A1	A2	■	B1	B2	B3																
A1	A2	■	B1	⊙	B3																

2. Jak zaznaczyć pomyłkę i zapisać poprawną odpowiedź w zadaniach otwartych?

Jeśli się pomylisz, zapisując odpowiedź w zadaniu otwartym, pomyłkę przekreśl i napisz poprawną odpowiedź

nad niepoprawnym fragmentem

64 cm²

Pole kwadratu jest równe ~~100 cm²~~.

lub obok niego

Pole kwadratu jest równe ~~100 cm²~~. 64 cm²

Zadania egzaminacyjne są wydrukowane na kolejnych stronach.

Zadanie 1. (0–1)

Firma przesyłkowa *Wielpak* korzysta z paczkomatów do samodzielnego nadawania i odbierania przesyłek przez klientów. Maksymalne wymiary prostopadłościennej paczki, którą można nadać za pośrednictwem tej firmy, wynoszą 38 cm × 41 cm × 64 cm, a masa przesyłki nie może być większa niż 25 kg.

W tabeli zapisano wymiary i masę czterech paczek.

Nr paczki	Wymiary	Masa
1	37 cm × 41 cm × 66 cm	23 kg
2	38 cm × 38 cm × 59 cm	25 kg
3	35 cm × 40 cm × 64 cm	26 kg
4	26 cm × 39 cm × 63 cm	22 kg

Które z tych paczek mogą być nadane przez paczkomat tej firmy? Wybierz właściwą odpowiedź spośród podanych.

- A. Tylko 1, 2 i 4. B. Tylko 2 i 3. C. Tylko 3 i 4. D. Tylko 2 i 4. E. Tylko 4.

Zadanie 2. (0–1)

Poniżej zamieszczono fragment etykiety z jogurtu o masie 150 g.

Wartość odżywcza	w 100 g
energia	290 kJ / 69 kcal
tłuszcz	3,0 g
w tym kwasy nasycone	1,9 g
węglowodany	5,9 g
w tym cukry	5,9 g
błonnik	0 g
białko	4,6 g
sól	0,15 g
wapń	167 mg*
witamina B2	0,25 mg*

* 1 mg = 0,001 g

Uzupełnij poniższe zdania. Wybierz odpowiedź spośród oznaczonych literami A i B oraz odpowiedź spośród oznaczonych literami C i D.

Zjedzenie całego jogurtu dostarcza organizmowi około

A	B
---	---

 wapnia.

- A. 167 mg B. 250 mg

Zjedzenie całego jogurtu dostarcza organizmowi


C	D
---	---

 razy więcej białka niż witaminy B2.

- C. 18,4 D. 18 400

PRZENIEŚ ROZWIĄZANIA ZADAŃ NA KARTĘ ODPOWIEDZI!

Brudnopis



Zadanie 3. (0–1)

Oceń prawdziwość podanych zdań. Wybierz P, jeśli zdanie jest prawdziwe, albo F – jeśli jest fałszywe.

120% liczby 180 to tyle samo, co 180% liczby 120.	P	F
20% liczby 36 to tyle samo, co 40% liczby 18.	P	F

Zadanie 4. (0–1)

Liczba x jest najmniejszą liczbą dodatnią podzielną przez 3 i 4, a liczba y jest największą liczbą dwucyfrową podzielną przez 2 i 9.

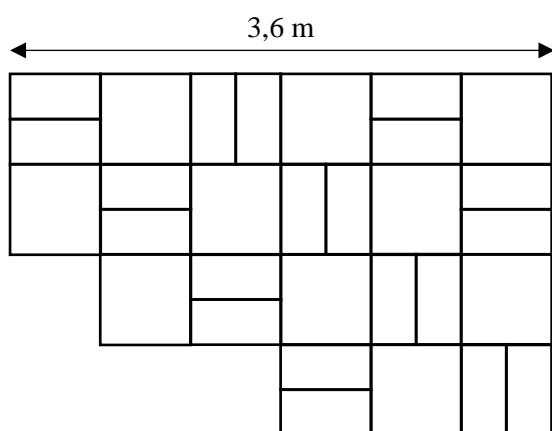
Dokończ zdanie. Wybierz właściwą odpowiedź spośród podanych.

Najmniejsza wspólna wielokrotność liczb x i y jest równa

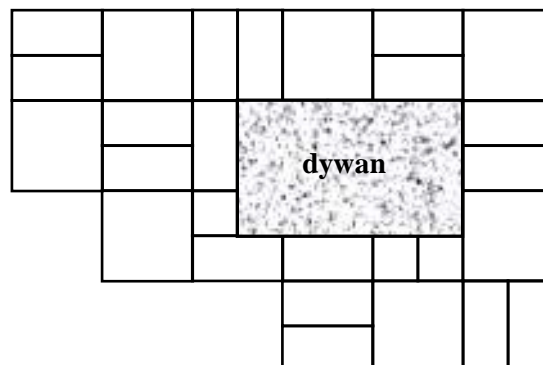
- A. 72 B. 108 C. 180 D. 216

Zadanie 5. (0–1)

Na rysunku przedstawiono fragment podłogi pokrytej kafłami w kształcie kwadratów o boku długości 60 cm i kafłami w kształcie jednakowych prostokątów (patrz rysunek I). Na podłodze tej położono prostokątny dywan (patrz rysunek II).



Rysunek I. Podłoga bez dywanu




Rysunek II. Podłoga z dywanem

Oceń prawdziwość podanych zdań. Wybierz P, jeśli zdanie jest prawdziwe, albo F – jeśli jest fałszywe.

Dywan ma powierzchnię większą niż powierzchnia 4 kwadratowych kafli.	P	F
Dywan ma wymiary 90 cm × 120 cm.	P	F

PRZENIEŚ ROZWIĄZANIA ZADAŃ NA KARTĘ ODPOWIEDZI!

Brudnopis



Zadanie 6. (0–1)

Prędkość rozchodzenia się impulsu elektrycznego u człowieka wynosi około 2 metrów na sekundę. U roślin impuls elektryczny może rozchodzić się z prędkością około 60 centymetrów na minutę.

Ile razy prędkość rozchodzenia się impulsu elektrycznego u człowieka jest większa od prędkości rozchodzenia się impulsu elektrycznego u roślin? Wybierz właściwą odpowiedź spośród podanych.

- A. W przybliżeniu 2 razy.
- B. W przybliżeniu 20 razy.
- C. W przybliżeniu 200 razy.
- D. W przybliżeniu 2000 razy.

Zadanie 7. (0–1)

Monika poprawnie zaokrągliła liczbę 3465 do pełnych setek i otrzymała liczbę x , a Paweł poprawnie zaokrąglił liczbę 3495 do pełnych tysięcy i otrzymał liczbę y .

Czy liczby x i y są równe? Wybierz odpowiedź A (Tak) albo B (Nie) i jej uzasadnienie spośród 1, 2 albo 3.

A.	Tak,	ponieważ	1.	początkowa liczba Moniki jest mniejsza od początkowej liczby Pawła.
			2.	cyfra tysięcy każdej z początkowych liczb jest taka sama.
B.	Nie,		3.	otrzymane zaokrąglenia różnią się o 500.

Zadanie 8. (0–1)

Dana jest liczba $a = 3\sqrt{2} - 4$.

Uzupełnij poniższe zdania. Wybierz odpowiedź spośród oznaczonych literami A i B oraz odpowiedź spośród oznaczonych literami C i D.

Liczba o 2 większa od liczby a jest równa

A	B
---	---

. A. $5\sqrt{2} - 4$ B. $3\sqrt{2} - 2$


Liczba 2 razy większa od liczby a jest równa

C	D
---	---

. C. $6\sqrt{4} - 8$ D. $6\sqrt{2} - 8$

PRZENIEŚ ROZWIĄZANIA ZADAŃ NA KARTĘ ODPOWIEDZI!

Brudnopis



Zadanie 9. (0–1)

Państwo Nowakowie mają trzy córki i jednego syna. Średnia wieku wszystkich dzieci państwa Nowaków jest równa 10 lat, a średnia wieku wszystkich córek jest równa 8 lat.

Ile lat ma syn państwa Nowaków? Wybierz właściwą odpowiedź spośród podanych.

A. 9

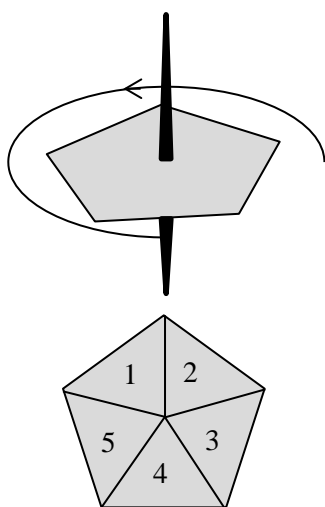
B. 11

C. 12

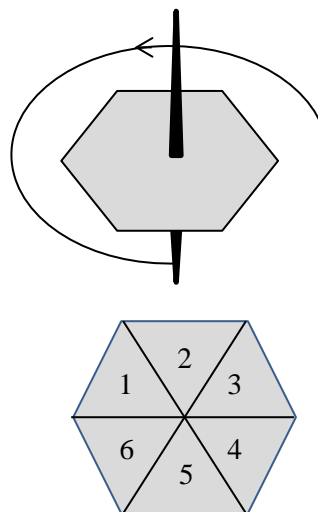
D. 16

Zadanie 10. (0–1)

Do gry planszowej używane są dwa bączki o kształtach przedstawionych na rysunkach. Każdy bączek po zatrzymaniu na jednym boku wielokąta wskazuje liczbę umieszczoną na jego tarczy. Na rysunku I bączek ma kształt pięciokąta foremnego z zaznaczonymi liczbami od 1 do 5. Na rysunku II bączek ma kształt sześciokąta foremnego z zaznaczonymi liczbami od 1 do 6.



Rysunek I




Rysunek II

Oceń prawdziwość podanych zdań. Wybierz P, jeśli zdanie jest prawdziwe, albo F – jeśli jest fałszywe.

Prawdopodobieństwo otrzymania liczby większej niż 3 na bączku z rysunku I jest większe niż $\frac{1}{2}$.	P	F
Uzyskanie nieparzystej liczby na bączku z rysunku I jest tak samo prawdopodobne, jak uzyskanie nieparzystej liczby na bączku z rysunku II.	P	F

PRZENIEŚ ROZWIĄZANIA ZADAŃ NA KARTĘ ODPOWIEDZI!

Brudnopis



Zadanie 11. (0–1)

O liczbie x wiemy, że $\frac{1}{3}$ tej liczby jest o $\frac{3}{4}$ większa od $\frac{1}{6}$ tej liczby.

Które równanie pozwoli wyznaczyć liczbę x ? Wybierz właściwą odpowiedź spośród podanych.

- A. $\frac{2}{3}x = \frac{1}{6}x + \frac{3}{4}$ B. $\frac{1}{3}x + \frac{3}{4} = \frac{5}{6}x$ C. $\frac{1}{3}x = \frac{1}{6}x + \frac{3}{4}$ D. $\frac{1}{3}x + \frac{3}{4} = \frac{1}{6}x$

Zadanie 12. (0–1)

W trójkącie ABC największą miarę ma kąt przy wierzchołku C . Miara kąta przy wierzchołku A jest równa 48° , a miara kąta przy wierzchołku B jest równa różnicy miary kąta przy wierzchołku C oraz miary kąta przy wierzchołku A .

Oceń prawdziwość podanych zdań. Wybierz P, jeśli zdanie jest prawdziwe, albo F – jeśli jest fałszywe.

Kąt przy wierzchołku B ma miarę 48° .	P	F
Trójkąt ABC jest prostokątny.	P	F


Zadanie 13. (0–1)

W układzie współrzędnych zaznaczono dwa punkty: $A = (-8, -4)$ i $P = (-2, 2)$. Punkt P jest środkiem odcinka AB .

Jakie współrzędne ma punkt B ? Wybierz właściwą odpowiedź spośród podanych.

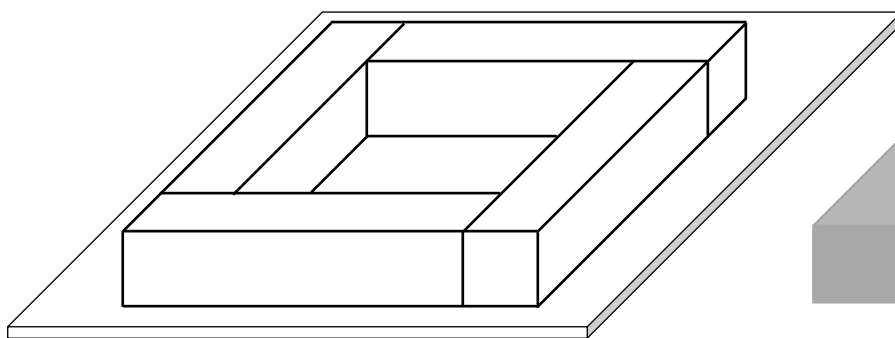
- A. $(4, 8)$ B. $(-10, -2)$ C. $(-10, 8)$ D. $(4, -2)$

Brudnopis

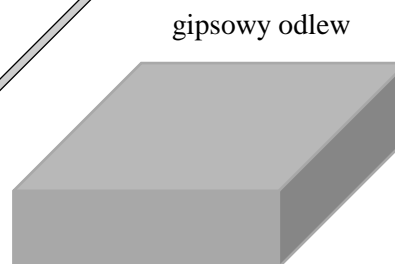


Zadanie 14. (0–1)

Cztery jednakowe drewniane elementy, każdy w kształcie prostopadłościanu o wymiarach $2\text{ cm} \times 2\text{ cm} \times 9\text{ cm}$, przyklejono do metalowej płytki w sposób pokazany na rysunku I.



Rysunek I



Rysunek II

W ten sposób przygotowano formę, którą wypełniono masą gipsową, i tak otrzymano gipsowy odlew w kształcie prostopadłościanu, pokazany na rysunku II.

Uzupełnij zdania. Wybierz odpowiedź spośród oznaczonych literami A i B oraz odpowiedź spośród oznaczonych literami C i D.

Objętość drewna, z którego zbudowano formę, jest równa

A	B
---	---

.

A. 144 cm^3 B. 36 cm^3

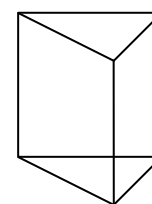
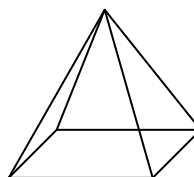
Objętość gipsowego odlewu jest równa

C	D
---	---

.

C. 162 cm^3 D. 98 cm^3 **Zadanie 15. (0–1)**

Na rysunkach przedstawiono ostrosłup prawidłowy i graniastosłup prawidłowy. Wszystkie krawędzie obu brył są jednakowej długości.




Oceń prawdziwość podanych zdań. Wybierz P, jeśli zdanie jest prawdziwe, albo F – jeśli jest fałszywe.

Suma długości wszystkich krawędzi ostrosłupa jest większa niż suma długości wszystkich krawędzi graniastosłupa.	P	F
Całkowite pole powierzchni ostrosłupa jest większe niż całkowite pole powierzchni graniastosłupa.	P	F

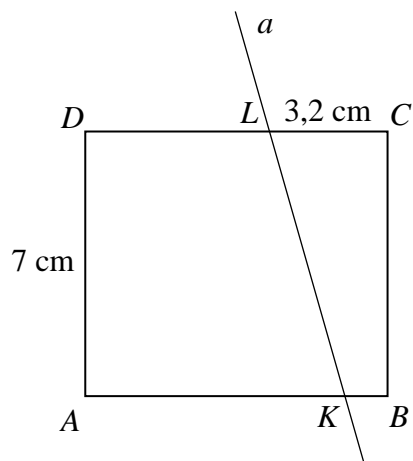
PRZENIEŚ ROZWIĄZANIA ZADAŃ NA KARTĘ ODPOWIEDZI!

Brudnopis




Zadanie 16. (0–2)

Prostokąt $ABCD$ o wymiarach 7 cm i 8 cm rozcięto wzdłuż prostej a na dwa trapezy tak, jak pokazano na rysunku. Odcinek CL ma długość 3,2 cm.




Pole trapezu $KBCL$ jest czterokrotnie mniejsze od pola prostokąta $ABCD$. Oblicz długość odcinka KB . Zapisz obliczenia.



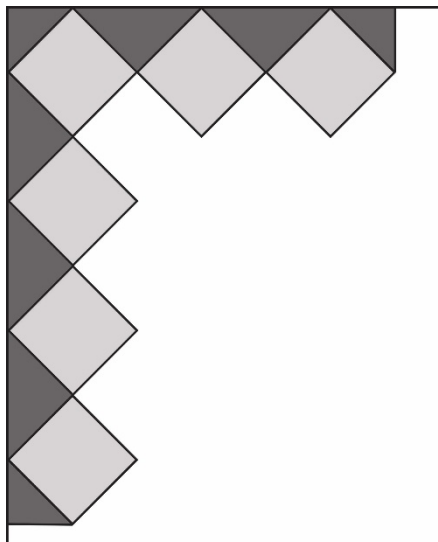
Zadanie 17. (0–2)

Na pozalekcyjne zajęcia sportowe zapisanych jest 37 osób. Uzasadnij, że w tej grupie są co najmniej 4 osoby, które urodziły się w tym samym miesiącu.


A large grid of graph paper, consisting of 20 columns and 30 rows of small squares, intended for writing the solution to the problem.

Zadanie 19. (0–3)

Agata postanowiła przygotować kartkę okolicznościową w kształcie prostokąta, ozdobioną wzorem dokładnie takim, jak przedstawiony na rysunku. Kartka ta będzie miała wymiary $15\text{ cm} \times 18\text{ cm}$. Do jej ozdobienia Agata chce użyć jednakowych kwadratów, których bok wyraża się całkowitą liczbą centymetrów. Niektóre z tych kwadratów będzie musiała przeciąć na dwie lub na cztery jednakowe części.




Oblicz maksymalną długość boku jednego kwadratu. Do obliczeń przyjmij przybliżenie $\sqrt{2} \approx 1,4$. Zapisz obliczenia.





Zadanie 20. (0–3)

W wyborach na przewodniczącego klasy kandydowało troje uczniów: Jacek, Helena i Grzegorz. Każdy uczeń tej klasy oddał jeden ważny głos. Jacek otrzymał 9 głosów, co stanowiło 36% wszystkich głosów. Helena otrzymała o 6 głosów więcej niż Grzegorz. Oblicz, ile głosów otrzymała Helena, a ile – Grzegorz. Zapisz obliczenia.



Brudnopis





OMAP-100-1812

WYPEŁNIA ZESPÓŁ NADZORUJĄCY

Uprawnienia ucznia do: dostosowania zasad oceniania

nieprzenoszenia odpowiedzi na kartę

WYPEŁNIA UCZEŃ

KOD UCZNIĄ

PESEL

miejsce na naklejkę

Nr zad.	Odpowiedzi					
1	A	B	C	D	E	
2	AC	AD	BC	BD		
3	PP	PF	FP	FF		
4	A	B	C	D		
5	PP	PF	FP	FF		
6	A	B	C	D		
7	A1	A2	A3	B1	B2	B3
8	AC	AD	BC	BD		
9	A	B	C	D		
10	PP	PF	FP	FF		
11	A	B	C	D		
12	PP	PF	FP	FF		
13	A	B	C	D		
14	AC	AD	BC	BD		
15	PP	PF	FP	FF		

WYPEŁNIA EGZAMINATOR

Nr zad.	Punkty				
	NP	0	1	2	3
16	<input type="checkbox"/>	<input type="checkbox"/>	<input type="checkbox"/>	<input type="checkbox"/>	
17	<input type="checkbox"/>	<input type="checkbox"/>	<input type="checkbox"/>	<input type="checkbox"/>	
18	<input type="checkbox"/>	<input type="checkbox"/>	<input type="checkbox"/>	<input type="checkbox"/>	
19	<input type="checkbox"/>	<input type="checkbox"/>	<input type="checkbox"/>	<input type="checkbox"/>	<input type="checkbox"/>
20	<input type="checkbox"/>	<input type="checkbox"/>	<input type="checkbox"/>	<input type="checkbox"/>	<input type="checkbox"/>
21	<input type="checkbox"/>	<input type="checkbox"/>	<input type="checkbox"/>	<input type="checkbox"/>	<input type="checkbox"/>



--	--	--	--	--	--	--	--	--

KOD EGZAMINATORA

.....
Czytelny podpis egzaminatora