

# PIECHOTĄ PO MIEŚCIE QUIZ


---





Drogi uczniu! Przed Tobą test składający się z 10 pytań. Uważnie przeczytaj każde z nich, a następnie wybierz prawidłową odpowiedź. Odpowiedzi prześlij na platformie Teams do następnej lekcji techniki.  
**POWODZENIA!**





## Zadanie 1 z 10

Asia i Karol wychodzą po lekcjach ze szkoły. Karol proponuje, aby skrócili sobie drogę i przeszli przez barierki. Asia namawia go do skorzystania ze znajdującego się niedaleko przejścia dla pieszych. Czy Asia dobrze robi, skoro auta jadące jezdnią są dosyć daleko i uczniowie zdążyliby szybko przeskoczyć barierki i przejść krótszą drogą na drugą stronę jezdni?

- Nie
- Tak



## Zadanie 2 z 10

Asia i Karol kontynuują powrót do domu i dochodzą do przejścia dla pieszych. Jak powinni się zachować, aby bezpiecznie przez nie przejść na drugą stronę jezdni?

- A  Kiedy zbliżają się do przejścia, mogą już z dalszej odległości zobaczyć, czy jadą jakieś pojazdy. Powinni z oddali popatrzeć najpierw w jedną, potem w drugą stronę. Jeśli uznają, że nic nie jedzie lub że zbliżające się auta są na tyle daleko od przejścia, że zdążą oni przejść przed nimi, mogą przejść na drugą stronę jezdni.
- B  Powinni się zbliżyć do krawędzi jezdni, spojrzeć najpierw w lewo, potem w prawo i jeszcze raz w lewo. Jeżeli nic nie jedzie, mogą zdecydowanym krokiem przejść przez jezdnię.
- C  Powinni się zbliżyć do krawędzi jezdni, spojrzeć najpierw w prawo, potem w lewo. Jeżeli nic nie jedzie, mogą powoli przejść przez jezdnię.



### Zadanie 3 z 10

Asia i Karol w drodze do domu dochodzą do ruchliwego skrzyżowania, na którym znajduje się dużo osób. Czy wszystkie osoby na tym skrzyżowaniu są pieszymi?

Kodeks drogowy mówi, że pieszy jest to osoba znajdująca się poza pojazdem na drodze i niewykonywająca na niej robót lub czynności przewidzianych odrębnymi przepisami.

Za pieszego uważa się również osobę prowadzącą, ciągnącą lub pchającą rower, motorower, skuter, motocykl, wózek dziecięcy, podręczny lub inwalidzki, osobę poruszającą się na wózku inwalidzkim, a także osobę w wieku do 10 lat kierującą rowerem pod opieką osoby dorosłej.

Pod rysunkiem zaznacz numerki oznaczające te osoby, które są pieszymi.

<input type="checkbox"/>	<input type="checkbox"/>	<input type="checkbox"/>	<input type="checkbox"/>	<input type="checkbox"/>	<input type="checkbox"/>	<input type="checkbox"/>	<input type="checkbox"/>	<input type="checkbox"/>	<input type="checkbox"/>
1	2	3	4	5	6	7	8	9	10



## Zadanie 4 z 10

Asia i Karol podczas drogi do domu mijają różne znaki drogowe. Niektóre stoją na pionowych słupkach przy drodze, inne są namalowane na jezdni. Połącz znak drogowy z jego znaczeniem.

Droga dla pieszych

Przejście dla pieszych

Koniec strefy zamieszkania

Zakaz ruchu pieszych

Dzieci (miejsce szczególnie uczęszczane przez dzieci)

1

2

3

4

5

A

B

C

D

E





## Zadanie 5 z 10

Asia i Karol dochodzą do przejścia z sygnalizatorem świetlnym. Światło zielone, które wcześniej świeciło się ciągle, teraz zaczęło migać. Jak powinny się zachować dzieci?

A



Jeżeli światło zielone zaczyna migać, a one są jeszcze na chodniku, nie powinny już wchodzić na przejście. Za chwilę zapali się światło czerwone i ruszą samochody.

B



Powinny szybko wejść lub wbiec na przejście, jeszcze przed zapaleniem się sygnału czerwonego, wtedy nawet kierowcy czekający przed przejściem muszą ustąpić im pierwszeństwa.




## Zadanie 6 z 10

Asia i Karol podczas drogi do domu natrafili na odcinek drogi znajdujący się już poza miastem. Niestety nie ma na nim ani chodnika, ani pobocza, więc dzieci muszą wejść na jezdnię. Asia wybiera lewą stronę, a Karol – prawą. Które z nich prawidłowo porusza się po jezdni?

Karol

Asia






## Zadanie 7 z 10

Przechodzenie przez jezdnię poza przejściem dla pieszych wymaga szczególnej ostrożności.

W zadaniach 7–9 oceń postępowanie Asi i Karola.

Oceń, czy dzieci zachowują się prawidłowo.

- A  Prawidłowe zachowanie
- B  Nieprawidłowe zachowanie



## Zadanie 8 z 10

Oceń, czy dzieci zachowują się prawidłowo.

- A  Prawidłowe zachowanie
- B  Nieprawidłowe zachowanie



## Zadanie 9 z 10

Oceń, czy dzieci zachowują się prawidłowo.

- A  Prawidłowe zachowanie
- B  Nieprawidłowe zachowanie



## Zadanie 10 z 10

Asia i Karol są już bardzo blisko domu. Muszą jeszcze przejść przez strzeżony przejazd kolejowy. Zaznacz zasady, których powinni przestrzegać, aby bezpiecznie pokonać przejazd.

- A  Przed przejściem przez przejazd zawsze należy się upewnić, że nie nadjeżdża pociąg. Ta zasada obowiązuje na każdym przejeździe, bez względu na to, czy jest niestrzeżony czy strzeżony i czy zapory są podniesione.
- B  Przez torowisko można przechodzić tylko w wyznaczonym miejscu.
- C  Jeżeli zapory są zamknięte, nie wolno ich przekraczać.
- D  Jeśli zapory są w trakcie opuszczania, piesi mogą jeszcze szybko przejść przez przejazd.
- E  Na przejeździe strzeżonym z otwartymi zaporami nie musimy się upewniać, czy nie nadjeżdża pociąg, bo za nasze bezpieczeństwo odpowiadają urządzenia i dróżnik, który podnosi i opuszcza zapory.

