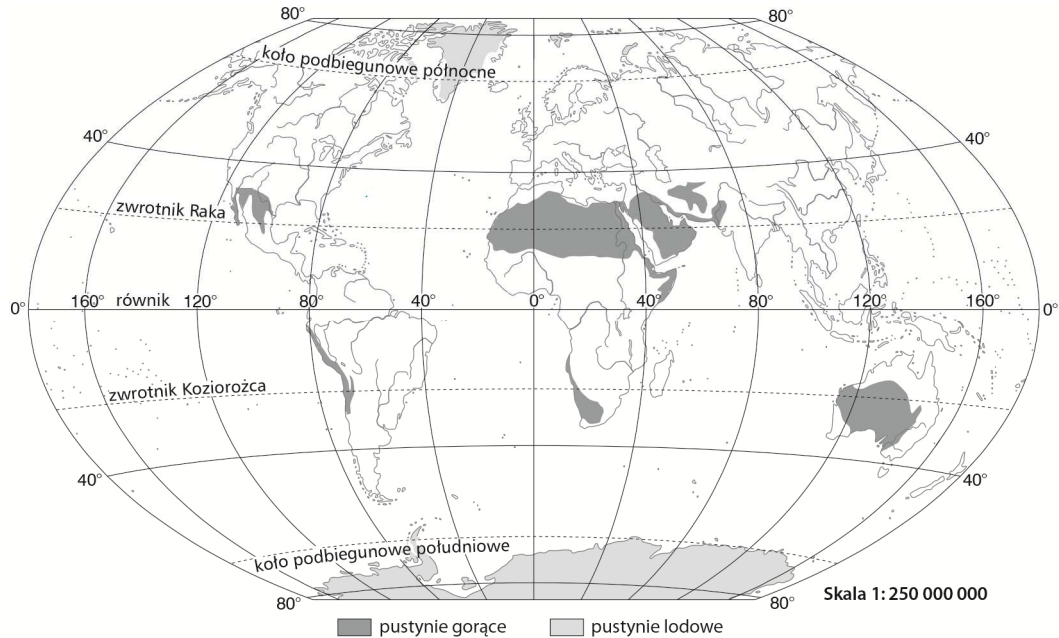




# Krajobrazy pustyni gorącej i pustyni lodowej



1. Wpisz na mapie numery, którymi oznaczono wymienione poniżej pustynie gorące i pustynie lodowe. Wykorzystaj informacje z atlasu geograficznego podane na mapach hipsometrycznych i krajobrazowych świata oraz poszczególnych kontynentów.



**Azja:** 1. Gobi 2. Takla Makan 3. Kyzyl-kum 4. Ar Rab-al-Chali 5. Thar

**Afryka:** 6. Sahara 7. Namib 8. Kalahari

**Ameryka Południowa:** 9. Atakama

**Australia:** 10. Wielka Pustynia Piaszczysta 11. Wielka Pustynia Wiktorii 12. Pustynia Gibsona

**Pustynie lodowe:** 13. Grenlandia 14. Antarktyda

2. Rozpoznaj na podstawie opisów rodzaje pustyń gorących, a następnie zapisz ich nazwy.

Pustynia pokryta masami piasku w postaci wydym: .....

Pustynia, na której możemy znaleźć grzyby skalne: .....

Pustynia pokryta niedużymi fragmentami skał i okruchami skalnymi: .....

3. Uzupełnij schemat na podstawie informacji z podręcznika. Uwzględnij na nim to, co jest potrzebne, by na pustyni powstał grzyb skalny.



4. Beduini to ludność koczownicza zamieszkująca północną część Afryki oraz Półwysep Arabski w Azji. Napisz w kilku zdaniach, co sprawia, że ci ludzie stale przemieszczają się z miejsca na miejsce.

.....

.....

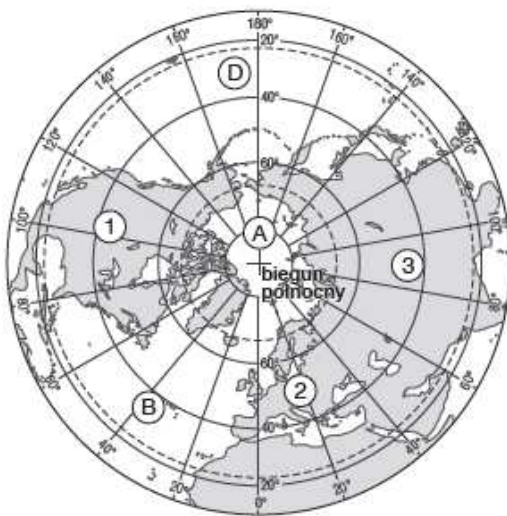
.....

.....

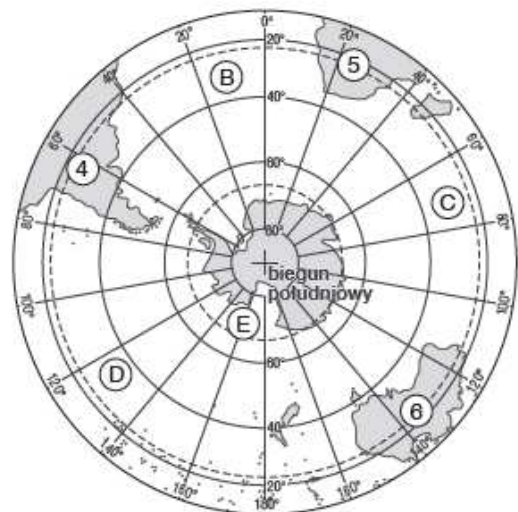


5. Wykonaj zadania na podstawie map z atlasu geograficznego.

- a) Wybierz i zaznacz właściwe podpisy pod mapami.
- b) Rozpoznaj na mapach i wpisz w odpowiednich miejscach nazwy kontynentów oznaczonych cyframi od 1 do 6 oraz oceanów oznaczonych literami od A do E.
- c) Zakresuj obszary występowania lądolodu.



Skala 1:250 000 000



Skala 1:250 000 000

Arktyka

Antarktyka

Arktyka

Antarktyka

Kontynenty:

- 1 – \_\_\_\_\_
- 2 – \_\_\_\_\_
- 3 – \_\_\_\_\_
- 4 – \_\_\_\_\_
- 5 – \_\_\_\_\_
- 6 – \_\_\_\_\_

Oceany:

- A – \_\_\_\_\_
- B – \_\_\_\_\_
- C – \_\_\_\_\_
- D – \_\_\_\_\_
- E – \_\_\_\_\_